

4. b kategorija
4. b kategorija

grupa B




Drniš, 26. i 27. travnja 2025

Ime i prezime: _____

1. Napiši predznake zadanih tonaliteta u violinskom i bas ključu:

12 bodova



cis mol

Es dur

h mol

B dur

fis mol

F dur


2. a) Prepozna i napiši zadane tonove (abecedom):

12 bodova



b) Napiši zadane tonove:

12 bodova



gis1

H

f2

e

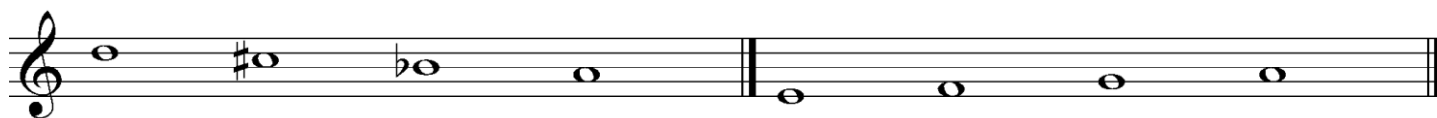
c3


a1

4. b kategorija

3. a) Prepoznavaj i napiši vrstu zadanog tetrakorda:

10 bodova





b) Napiši zadani tetrakord uzlazno:




molski

durski

4. Izgradi zadane kvintakorde uzlazno:

18 bodova



M_3^5

P_3^5

D_3^5

S_3^5

M_3^5

D_3^5

4. b kategorija

5.a) Prepoznavaj i odredi veličinu i vrstu zadanih intervala:

12 bodova



b) Izgradi intervale uzlazno na zadanom tonu:

12 bodova



č.5

v.6

m.7

m.2

p.4

v.3

6. U melodijskom primjeru dopuni taktove odgovarajućim notnim vrijednostima ili pauzama, tako da zapis odgovara mjeri:

12 bodova



_____od ukupno 100 bodova

Članovi ocjenjivačkog suda:

1. _____

2. _____

3. _____